

Pomóż mi ustawić moje renifery na odpowiednim miejscu w zaprzęgu. Wykonaj działania, a wyniki podpowiedzą Ci, gdzie umieścić danego renifera.

RUDOLF: $5487+3269$

TANCERZ: $13000-4431$

KOMETEK: $4507+4487$

PROFESOREK: $12101-3774$










ZŁOŚNIK: $1457\cdot 6$

AMOREK: $13354-4589$

FIRCZYK: $242\cdot 36$

PYSZAŁEK: $16974:2$

BŁYSKAWICZNY: $32664:4$

8994	8166	8712	8742	
<input type="text"/>	<input type="text"/>	<input type="text"/>	<input type="text"/>	
				
				<input type="text"/>
<input type="text"/>	<input type="text"/>	<input type="text"/>	<input type="text"/>	8756
8765	8569	8487	8327	